

Matemática

1ª Série Ensino Fundamental Tarde

Nome do aluno: _____

1. Você é:  

2. Idade: _____

Para uso do aplicador

Nome da escola: _____

Turma: _____

Mês de aniversário do aluno: _____

Quando você começou a estudar?

a) no maternal

b) na pré-escola

c) na 1ª série

Número triângulo:

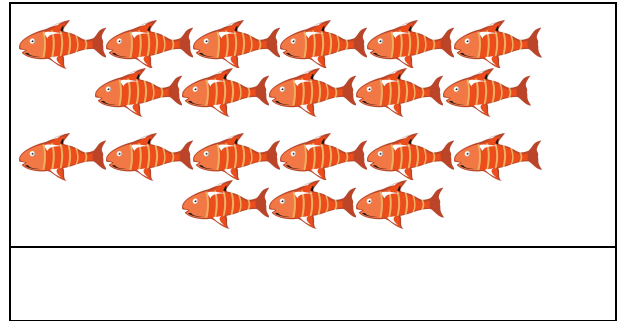
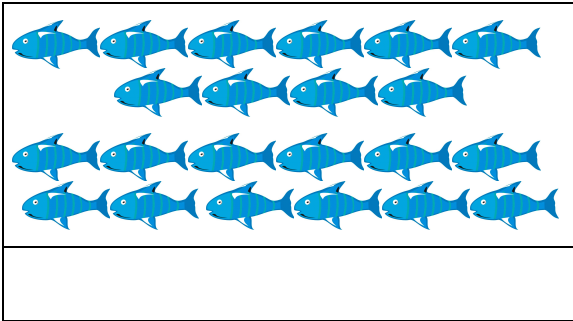
MATEMÁTICA

1. LUCAS TEM UMA COLEÇÃO DE BANDEIRINHAS DOS ESTADOS DO BRASIL. DESCUBRA QUANTAS BANDEIRINHAS JÁ TEM A COLEÇÃO DE LUCAS.



ESCREVA O NÚMERO DE BANDEIRINHAS DE LUCAS NO QUADRINHO ABAIXO.

2. MARIA TEM DOIS AQUÁRIOS COM PEIXINHOS: UM COM PEIXINHOS AZUIS E OUTRO COM PEIXINHOS VERMELHOS.



- a. EM QUAL DOS AQUÁRIOS HÁ MAIS PEIXINHOS? FAÇA UM X ABAIXO DO AQUÁRIO QUE TEM MAIS PEIXINHOS.
- b. QUANTOS PEIXINHOS ESSE AQUÁRIO TEM A MAIS QUE O OUTRO?
ESCREVA A RESPOSTA NO QUADRINHO ABAIXO.

3. CADA CARTELA ABAIXO TEM UM NÚMERO.

41

19

32

15

ORGANIZE ESSES NÚMEROS DO MENOR PARA O MAIOR. ESCREVA CADA NÚMERO NOS QUADRINHOS ABAIXO.

4. EM CADA QUADRINHO ABAIXO, COMEÇANDO DA ESQUERDA PARA A DIREITA, ESCREVA OS NÚMEROS QUE EU VOU DITAR.

5. PAULA TEM 11 ANOS E SUA PRIMA TATIANA TEM 8 ANOS A MAIS QUE ELA.

ESCREVA A IDADE DE TATIANA NO QUADRINHO ABAIXO.

6. CALCULE O RESULTADO DE $42 + 36$.

ESCREVA A RESPOSTA NO QUADRINHO ABAIXO.

7. CARLOS TINHA 19 FIGURINHAS E DEU 12 FIGURINHAS A SEU IRMÃO. COM QUANTAS FIGURINHAS ELE FICOU?





ESCREVA A RESPOSTA NO QUADRINHO ABAIXO.

8. CALCULE O RESULTADO DE $29 - 13$.

ESCREVA A RESPOSTA NO QUADRINHO ABAIXO.

9. VEJA OS BRINQUEDOS DE GUSTAVO. UM DELES NÃO TEM FORMA ARREDONDADA.

FAÇA UM X ABAIXO DA FIGURA DESSE BRINQUEDO.

			
<input type="checkbox"/>	<input type="checkbox"/>	<input type="checkbox"/>	<input type="checkbox"/>

10. OBSERVE O CALENDÁRIO DO MÊS DE SETEMBRO DE 2007. AS LETRAS INDICAM OS DIAS DA SEMANA (DOMINGO, SEGUNDA, TERÇA, QUARTA, QUINTA, SEXTA E SÁBADO) E OS NÚMEROS INDICAM OS DIAS DO MÊS.

MÊS DE SETEMBRO/2007						
D	S	T	Q	Q	S	S
						1
2	3	4	5	6	7	8
9	10	11	12	13	14	15
16	17	18	19	20	21	22
23	24	25	26	27	28	29
30						

O ANIVERSÁRIO DE ALICE FOI NO DIA 10 DE SETEMBRO.

a. NESSE CALENDÁRIO, MARQUE COM UM X O DIA DO ANIVERSÁRIO DE ALICE.

b. EM QUE DIA DA SEMANA CAIU O ANIVERSÁRIO DE ALICE?

RESPOSTA: _____

11. MAGALI FEZ UMA PESQUISA COM SEUS COLEGAS DE CLASSE PARA SABER QUAL ERA O ESPORTE PREFERIDO PELA TURMA. ELA MARCOU OS VOTOS NUMA TABELA.

ESPORTE	VOTOS
FUTEBOL	
VOLEIBOL	
BASQUETEBOL	
JUDÔ	
CAPOEIRA	

a) CONSULTE A TABELA DE MAGALI E ESCREVA QUAL FOI O ESPORTE MAIS VOTADO.

RESPOSTA: _____

SARESP²⁰⁰⁷

Sistema de Avaliação de Rendimento Escolar do Estado de São Paulo

 **Fundação**
Carlos Chagas


FUNDAÇÃO PARA O
DESENVOLVIMENTO DA
EDUCAÇÃO

SECRETARIA
DA EDUCAÇÃO


GOVERNO DO ESTADO DE
SÃO PAULO
RESPEITO POR VOCÊ