

Matemática

2ª Série Ensino Fundamental Tarde

Nome do aluno:

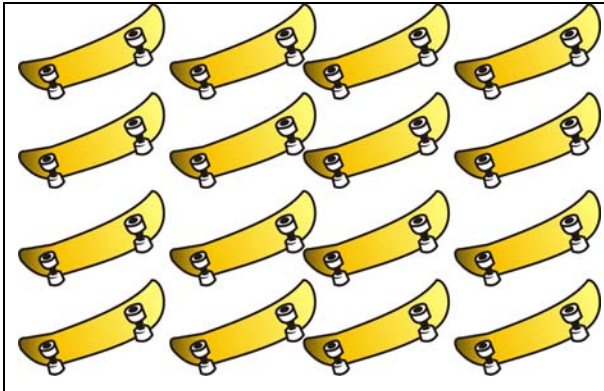
Nome da escola:

Turma:

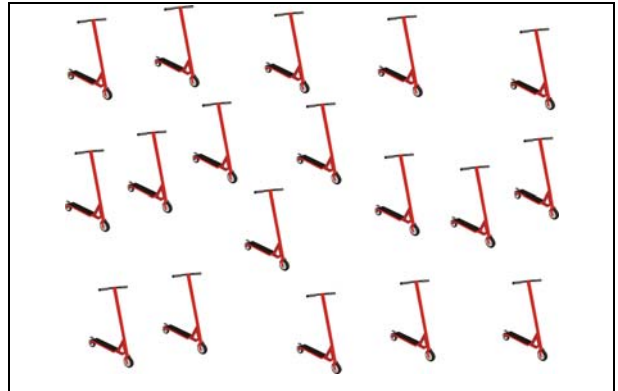
MATEMÁTICA

1. NA FIGURA ESTÃO DESENHADOS SKATES E PATINETES.

SKATES



PATINETES



A) O QUE TEM MAIS, SKATES OU PATINETES? FAÇA UM X NO QUADRINHO PARA INDICAR ONDE TEM MAIS.

B) QUANTOS TEM A MAIS?
ESCREVA A RESPOSTA NO QUADRINHO ABAIXO.

2. DONA INÊS COMPROU ALGUNS LIVROS E GUARDOU-OS EM UMA ESTANTE COM QUATRO PRATELEIRAS. ELA COLOCOU 1 DEZENA DE LIVROS EM CADA UMA DAS TRÊS PRIMEIRAS PRATELEIRAS. NA QUARTA PRATELEIRA ELA COLOCOU APENAS 4 LIVROS.

A) QUANTOS LIVROS DONA INÊS COMPROU?
ESCREVA A RESPOSTA NO QUADRINHO ABAIXO

B) PARA QUE AS QUATRO PRATELEIRAS FICASSEM COM 10 LIVROS CADA UMA, QUANTOS LIVROS DONA INÊS DEVERIA TER COMPRADO?
ESCREVA A RESPOSTA NO QUADRINHO ABAIXO

3. CADA CARTELA ABAIXO TEM UM NÚMERO

213

231

99

301

220

ORGANIZE OS NÚMEROS DO MENOR PARA O MAIOR. ESCREVA CADA NÚMERO NOS QUADRINHOS ABAIXO, DA ESQUERDA PARA A DIREITA.

4. DONA EVA É PROFESSORA DE UMA CLASSE DE 3ª SÉRIE E NELA HÁ 17 MENINOS E 22 MENINAS. QUAL É O TOTAL DE ESTUDANTES DA CLASSE DE DONA EVA?
ESCREVA A RESPOSTA NO QUADRINHO ABAIXO.

-
5. ONTEM, PAULO TINHA 18 REAIS. HOJE ELE GANHOU 5 REAIS. QUANTOS REAIS PAULO TEM AGORA?
ESCREVA A RESPOSTA NO QUADRINHO ABAIXO.

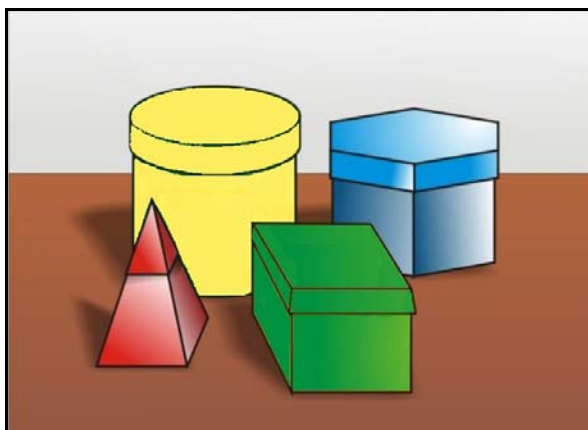
-
6. CALCULE O RESULTADO DE $45 + 37$.
ESCREVA A RESPOSTA NO QUADRINHO ABAIXO.

-
7. LUÍS TINHA 35 BOLINHAS DE GUDE E DEU 15 BOLINHAS A SEU IRMÃO. COM QUANTAS BOLINHAS LUÍS FICOU?
ESCREVA A RESPOSTA NO QUADRINHO ABAIXO.

-
8. ANDRÉ TEM UMA COLEÇÃO COM 34 CARRINHOS. A COLEÇÃO DE MATEUS TEM 23 CARRINHOS. QUANTOS CARRINHOS A COLEÇÃO DE ANDRÉ TEM A MAIS QUE A COLEÇÃO DE MATEUS?
ESCREVA A RESPOSTA NO QUADRINHO ABAIXO.

-
9. CALCULE O RESULTADO DE $99 - 56$.
ESCREVA A RESPOSTA NO QUADRINHO ABAIXO.

10. PARA GUARDAR SEUS OBJETOS, CLÁUDIA GOSTA DE COMPRAR CAIXAS BEM COLORIDAS E DE FORMATOS VARIADOS.



CLÁUDIA QUER ESCOLHER UMA CAIXA COM FORMA ARREDONDADA PARA GUARDAR O CHAPÉU. QUAL É A COR DA CAIXA QUE ELA DEVE ESCOLHER?

- () AZUL
- () VERDE
- () AMARELA
- () VERMELHA

11. OBSERVE O CALENDÁRIO:

SETEMBRO/2008						
D	S	T	Q	Q	S	S
	1	2	3	4	5	6
7	8	9	10	11	12	13
14	15	16	17	18	19	20
21	22	23	24	25	26	27
28	29	30				

- A) EM QUE DIA DA SEMANA CAIU O ÚLTIMO DIA DO MÊS DE SETEMBRO DE 2008?
ESCREVA A RESPOSTA NO QUADRINHO ABAIXO.

- B) EM QUE DIA FOI O SEGUNDO DOMINGO DO MÊS DE SETEMBRO DE 2008?
ESCREVA A RESPOSTA NO QUADRINHO ABAIXO.

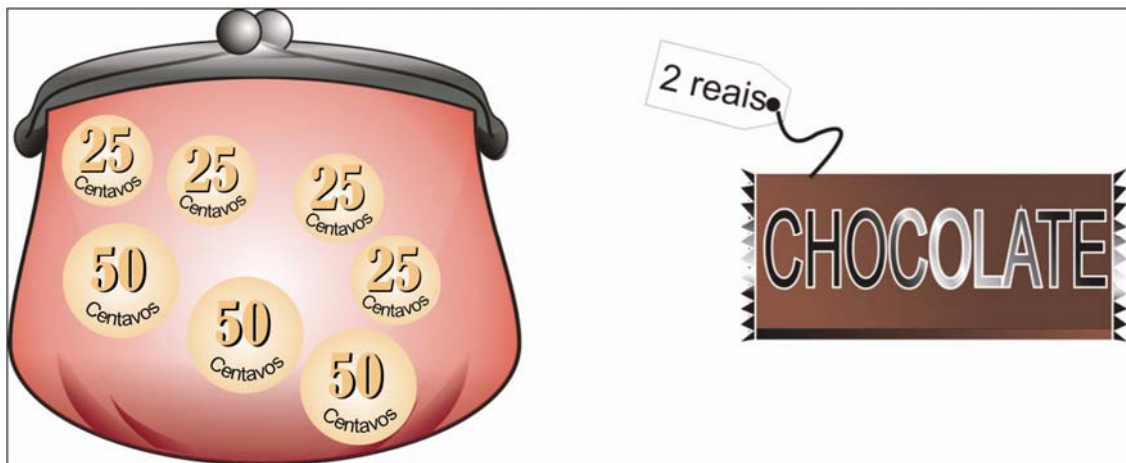
12. ANA COMPROU ALGUMAS REVISTAS E PAGOU COM AS NOTAS DESENHADAS ABAIXO.



QUANTOS REAIS ANA GASTOU?

ESCREVA A RESPOSTA NO QUADRINHO ABAIXO.

13. A FIGURA MOSTRA A BOLSA DE BIA E AS MOEDAS QUE ELA TEM. BIA QUER COMPRAR COM ESSAS MOEDAS O CHOCOLATE.



A) A BIA PODE COMPRAR O CHOCOLATE COM AS MOEDAS QUE ELA TEM?

NÃO

SIM

B) SE VOCÊ RESPONDEU:

NÃO, DIGA O QUANTO FALTA DE MOEDAS PARA COMPRAR O CHOCOLATE.
ESCREVA A RESPOSTA NO QUADRINHO ABAIXO.

SIM, DIGA A QUANTIA QUE SOBROU NA BOLSA.
ESCREVA A RESPOSTA NO QUADRINHO ABAIXO.

-
14. ANTONIO FEZ UMA TABELA COM OS NOMES DOS PROGRAMAS DE TV QUE ELE MAIS GOSTA PARA 3 DIAS DA SEMANA. ELE INDICOU TAMBÉM OS CANAIS ONDE PASSAM ESSES PROGRAMAS.

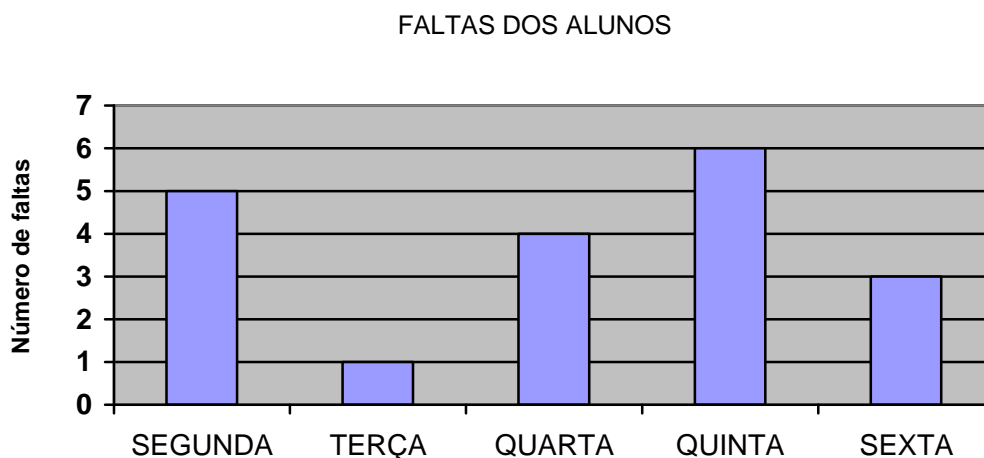
	CANAL A	CANAL B
SEXTA-FEIRA	O MUNDO DO CIRCO	APRENDA INGLÊS
SÁBADO	DESENHOS	MUNDO ANIMAL
DOMINGO	PLANETA ÁGUA	FILMES

- A) EM QUE DIA DA SEMANA PASSAM DESENHOS?

- B) EM QUAL CANAL PASSA O PROGRAMA PLANETA ÁGUA?

- C) NO DOMINGO E NO **CANAL B**, QUAL FOI O PROGRAMA ESCOLHIDO POR ANTONIO?

15. DONA LÚCIA ANOTOU O TOTAL DE FALTAS DE SEUS ALUNOS EM CADA DIA DA SEMANA PASSADA E CONSTRUÍU O GRÁFICO ABAIXO.



DE ACORDO COM O GRÁFICO, RESPONDA:

- A)** QUAL FOI O DIA EM QUE HOUE O MENOR NÚMERO DE FALTAS?
ESCREVA A RESPOSTA NO QUADRINHO ABAIXO.

- B)** QUANTOS ALUNOS FALTARAM NA QUINTA-FEIRA?
ESCREVA A RESPOSTA NO QUADRINHO ABAIXO.



SARESP²⁰⁰⁸

Sistema de Avaliação de Rendimento Escolar do Estado de São Paulo

 FUNDAÇÃO
CESGRANRIO



 FUNDAÇÃO PARA O
DESENVOLVIMENTO
DA EDUCAÇÃO

SECRETARIA
DA EDUCAÇÃO


GOVERNO DO ESTADO DE
SÃO PAULO
TRABALHANDO POR VOCÊ